



**Общински кръг на олимпиадата по история и цивилизация
изпитен вариант по учебната програма за V клас -20 декември 2012 година**

Уважаеми ученици,

При работата върху задачите пишете със **син** химикал. Верните отговори отбелязвайте със знака **X**. Ако допуснете грешка при попълването на отговорите можете да поставите грешния отговор в скоби. По време на олимпиадата не може да ползвате допълнителни помагала или пособия, освен предоставената Ви бланка. Продължителността на изпита е **три** астрономически часа, през които трябва да работите по **всички задачи**. За областния кръг се класират ученици получили **не по-малко от 75 точки**.

Желаем Ви успех в олимпиадата по история!

ЗАДАЧИ:

1. В кой отговор са изброени само писмени исторически извори?

- А) останки от храм, монета, летопис
- Б) златен накит, меден съд, каменен надпис
- В) египетски папирус, снимка, закон
- Г) писмо, копие, кремъчно сечиво

2. Траките принадлежат към?

- А) индоевропейските народи
- Б) азиатските народи
- В) тюркските народи
- Г) африканските народи

3. През коя епоха човекът усвоил земеделието и започнал да строи постоянни селища?

- А) старокаменната
- Б) желязната
- В) медно-каменната
- Г) новокаменната

4. Кой културно исторически паметник е представен на снимката?

- А) стенопис от църквата Св. София
- Б) релеф от Силистренската гробница
- В) тракийското светилище Перперикон
- Г) стенопис от Казанлъшката гробница



5. Великото преселение на народите и падането на Западната Римска империя в ръцете на варварските племена белязали прехода на Европа към:

- А) Новото време
- Б) Античната епоха
- В) Средновековието
- Г) Праисторията

6. Тракийско племе, създавало своя държава е това на:

- А) астите
- Б) бесите
- В) мизите
- Г) одрисите

7. Кога император Константин Велики обявил християнството за равнопоставена религия в Римската империя?

- А) през 313 г.
- Б) през 395 г.
- В) през 476 г.
- Г) през 330 г.

8. Коя племенна общност описва текстът?

Тяхната прародина била Източна Европа – между Балтийско море на север и Карпатите на юг. През IV в. под натиска на Великото преселение на народите те се разселили на континента. Оформили се в три групи – западни източни и южни.

- А) германските племена
- Б) хунските племена
- В) прабългарските племена
- Г) славянските племена

9. Политиката на българските владетели от първата половина на IX век е насочена към:

- А) разширяване на търговските връзки
- Б) разширяване на териториите и вътрешно укрепване на държавата
- В) запазване на границите и постоянни борби за престола
- Г) разширяване на териториите и отслабване на държавата

10. Какво било значението на Крумовите закони за българското ранносредновековно общество?

- А) осигурили вечна власт на Крумовата династия
- Б) затвърдили върховенството на прабългарите над славяните
- В) наложили християнската религия в България
- Г) гарантирали равнопоставеност и сближаване на славяни и прабългари

11. Кой е историческият извор съдържащ следния текст:

...Исперих княз, 61 години. Родът му Дуло. А властта му е дадена в годината на тигъра месец първи.

... Тервел, 21 години. Родът му Дуло. А властта му е дадена в годината на овена, месец девети...

- А) Хроника на Теофан Изповедник
- Б) „Именник на българските ханове”
- В) Симеонов сборник „Златоструй”
- Г) „Шестоднев” на Йоан Екзарх

12. Славянската писменост била създадена от светите братя Кирил и Методий през:

- А) 985 г.
- Б) 864 г.
- В) 885 г.
- Г) 855 г.

13. Според мирният договор от 927 г. Българската църква се превърнала в:

- А) архиепископия
- Б) епископия
- В) патриаршия
- Г) митрополия

14. През коя година се е състояла битката между цар Симеон и Византия край река Ахелой?

- А) през 811 г.
- Б) през 816 г.
- В) през 917 г.
- Г) през 924 г.

15. През коя година император Василий II претърпява поражение при прохода Траянови врата?

- А) 986 г.
- Б) 989 г.
- В) 998 г.
- Г) 1014 г.

16. Напиши към всяко събитие личността и времето (годината), с които го свързваш.

Събитие	Личност	Година
а) Основаването на Дунавска България		
б) Покръстването на българския народ		
в) Основаването на Българската църква		
г) Признаването на България за царство от Византия		

17. Попълни владетелят и времето (векът), с които са свързани историческите източници.

Исторически източник	Владетел	Век
а) <i>"И като измерих земята, направих тези писмена. Човек и добре да живее, умира. И дръг се ражда. И нека роденият по-късно, като гледа това, си спомня за онзи, който го е направил."</i> Из надпис върху каменна колона		
б) <i>"Князът на българите приел светото кръщение... Недоволни от това, неговите боляри разбунтували народа против него... Царят наказал със смърт само петдесет и двама..., а на останалия народ позволил да си отиде невредим."</i> Из франкска хроника		

18. Избройте трите важни решения, които взел църковно-народният събор през 893 г.

1.
2.
3.

19. Срецу всяко определение запишете понятието, което му съответства:





	понятие	определение
а)		Название, използвано за развитието на всички страни от живота на човешките общества във времето – политически и стопански живот, религиозни вярвания, изкуство и обичаи.
б)		Голяма държава, която обединява различни народи под управлението на един владетел.
в)		Силно напрежение в държавата породено от вътрешни конфликти или външна опасност.
г)		Женитба между представители на владетелски династии от различни държави с цел тяхното сближаване.

20. Разгледайте изображението и опишете:

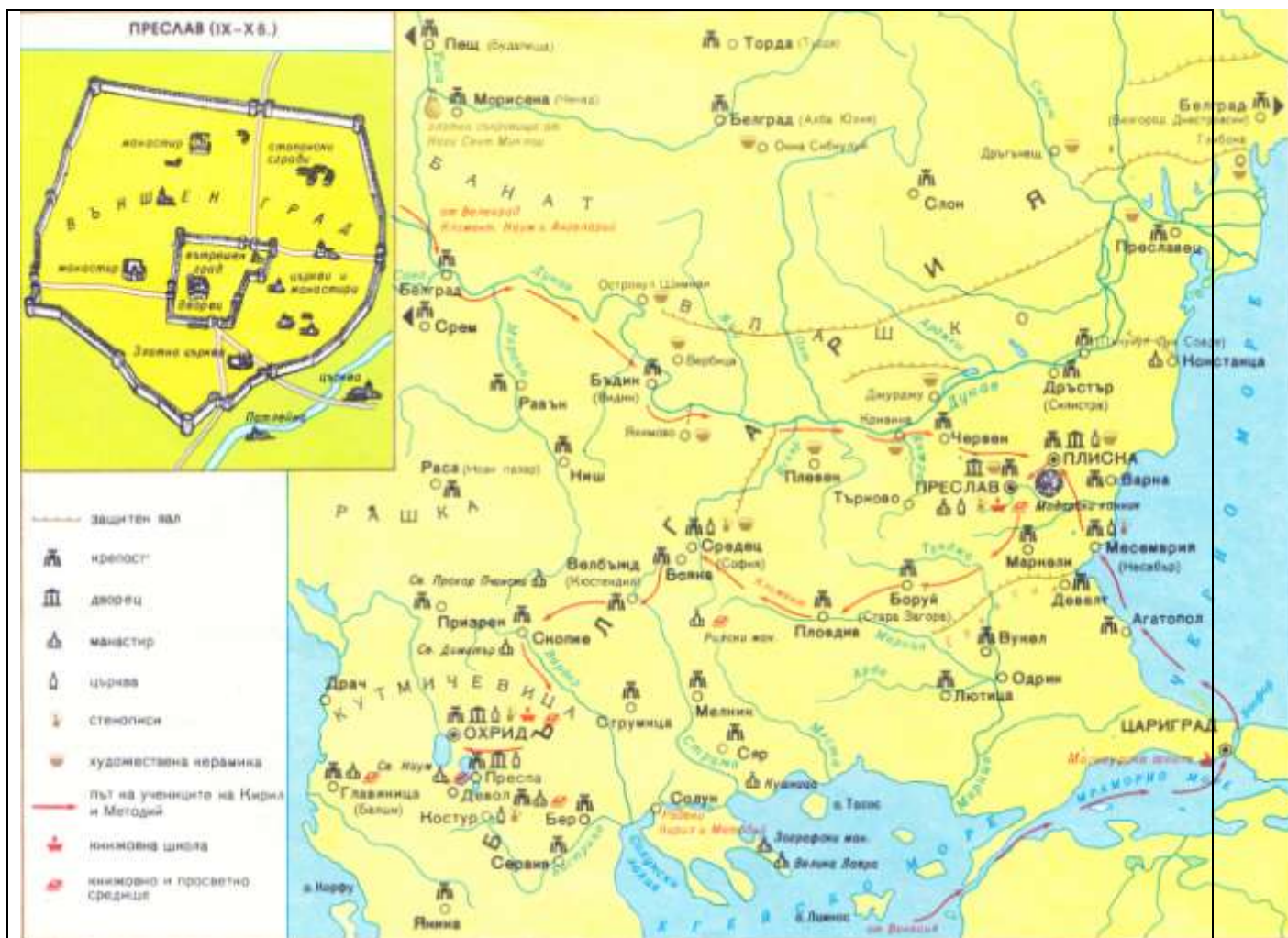


1. Кое събитие представя изображението и годината, в която се е случило?	
2. Какво е значението на посоченото събитие?	

21. Надпишете посочените изображения и посочете, от кой период на българската история са: *езически или християнски*.


	изображения	период
<p>A)</p> 		
<p>Б)</p> 		
<p>В)</p> 		
<p>Г)</p> 		

22.Поставете заглавие на историческата карта:



24.Защо определяме княз Борис като добър държавник и умел дипломат?

1. *Защо приемането на християнството било от изключително значение за вътрешната стабилност на българската държава?*
2. *Как приемането на християнството допринесло за издигане авторитета на българската държава?*
3. *Какво е символичното значение на потушения от княз Борис I бунт на 52-та боляри.*
4. *Опишете събитията около създаването на българската църква.*
5. *Обяснете защо културно-просветната дейност на Кирило-Методиевите ученици била венецът на християнизаторската политика на княз Борис I.*



Благодарим Ви за участието в ОЛИМПИАДАТА!

Участник в олимпиадата:	
Име, презиме, фамилия:.....	Клас:.....
Училище:.....	
Селище:.....	

<i>ПОПЪЛВА СЕ ОТ КВЕСТОРИТЕ!</i>	
Начало на олимпиадата: часа	Изпитната работа е приета в :.....часа
Име и фамилия на квестора приел работата:	Подпис:

<i>ПОПЪЛВА СЕ ОТ ОЦЕНЯВАЩИТЕ УЧИТЕЛИ!</i>		
Първи оценител:	()
<i>(Име и фамилия)</i>	<i>(подпис)</i>	<i>брой точки</i>
Втори оценител:	()
Общ брой точки:..... (Първи + Втори / 2) Ученикът класира за Областния кръг на олимпиадата.		